

## แบบทดสอบ Pre NT : ความสามารถด้านเหตุผล ชั้น ป. 3 สพป.รอ.1

### คำชี้แจง

1. แบบทดสอบมี 30 ข้อ ข้อละ 1 คะแนน คะแนนเต็ม 30 คะแนน เวลา 50 นาที
2. ให้นักเรียนเลือกคำตอบที่ถูกต้องที่สุดเพียงคำตอบเดียว โดยระบายทับตัวเลขที่ตรงกับตัวเลือกที่ต้องการลงในกระดาษคำตอบ เช่น ตัวอย่าง

#### 0. ข้อใดเป็นผลไม้

- 1) มะระ
- 2) มะเขือ
- 3) มะม่วง
- 4) มะนาว

ถ้านักเรียนเลือก 3) เป็นคำตอบที่ถูกต้อง ให้ระบายในกระดาษคำตอบ ดังนี้

ข้อ 0	①	②	③	④
-------	---	---	---	---

อ่านข้อความที่กำหนด แล้วตอบคำถามข้อ 1

ผลการสำรวจร้านค้าเกี่ยวกับการใช้กระดาษชำระหรือกระดาษทิชชู

ร้านค้า	ร้านขายข้าวสาร	ร้านอาหาร	ร้านก๋วยเตี๋ยว	ร้านขายยา
ลักษณะกระดาษชำระ (ทิชชู)	ชนิดแผ่นเรียบ 	ชนิดลายนูน 	ชนิดลายนูน 	ชนิดแผ่นเรียบ 

1. แอ้วขายส้มตำ ควรเลือกใช้กระดาษชำระ(ทิชชู) แบบใดจึงจะเหมาะสม เพราะเหตุใด
  - 1) ชนิดลายนูน เพราะมีความยืดหยุ่น น้ำหนักเบา
  - 2) ชนิดลายนูน เพราะมีความยืดหยุ่น ซึมซับได้ดี
  - 3) ชนิดแผ่นเรียบ เพราะมีความยืดหยุ่น ย่อยสลายได้ดี
  - 4) ชนิดแผ่นเรียบ เพราะมีความยืดหยุ่น ปริมาณมากกว่า

อ่านข้อความที่กำหนด แล้วตอบคำถามข้อ 2

นักเรียนกลุ่มหนึ่ง เลือกชื่อของเล่น ดังนี้  
นิต ชื่อตุ๊กตาที่ทำด้วยผ้า  
เก่ง ชื่อรถเด็กเล่นที่ทำด้วยพลาสติก  
ต้อม ชื่อหุ่นยนต์ที่ทำด้วยโลหะ  
ปอย ชื่อปืนของเล่นที่ทำด้วยไม้


2. ถ้านักเรียนจะซื้อของเล่นให้น้องผู้หญิงที่มีอายุ 1 ขวบ ควรเลือกชื่อของเล่น  
เหมือนใคร เพราะเหตุใด

- 1) นิต เพราะมีความยืดหยุ่นและปลอดภัย
- 2) เก่ง เพราะมีสีสันสวยงามและสะอาดตา
- 3) ต้อม เพราะมีการผลิตด้วยเทคโนโลยีที่ทันสมัย
- 4) ปอย เพราะมีความแข็งแรงและทนทาน

อ่านข้อความที่กำหนด แล้วตอบคำถามข้อ 3



ชุมชนที่ 1 มีอาชีพระเบิดภูเขาหินปูน  
เพื่อนำมาทำถนน และสร้างอาคาร  
บ้านเรือน




ชุมชนที่ 2 มีอาชีพทำเหมืองแร่ โดยการ  
ฉีดน้ำให้ก้อนแร่ไหลตามราง

3. อาชีพของทั้งสองชุมชนส่งผลกระทบต่อสิ่งใดมากที่สุด


- 1) ป่าไม้ลดลง
- 2) สัตว์ป่าลดลง
- 3) น้ำป่าไหลหลาก
- 4) ทรัพยากรลดลงและหมดไป

อ่านข้อความที่กำหนด แล้วตอบคำถามข้อ 4

บ้านหลังหนึ่งอยู่ใกล้ฟาร์มเลี้ยงหมู คนในบ้านมักจะได้กลิ่นเหม็นและเสียงรบกวนจากหมู ส่วนบ้านอีกหลังหนึ่งอยู่ใกล้กับคอกเลี้ยงวัวนม คนในบ้านมักจะได้รับความรำคาญจากแมลงวันและควันจากการเผาหญ้าสดเพื่อเลี้ยงให้วัว



คอกเลี้ยงหมู



คอกเลี้ยงวัว

4. จากข้อมูลนี้ คนในบ้านทั้ง 2 หลัง น่าจะมีปัญหาในเรื่องใดมากที่สุด

- 1) ระบบหายใจ
- 2) ระบบขับถ่าย
- 3) ระบบย่อยอาหาร
- 4) ระบบหมุนเวียนเลือด

อ่านข้อความที่กำหนด แล้วตอบคำถามข้อ 5

เด็กชายคม จัดกลุ่มสิ่งของที่มีอยู่ได้ 2 กลุ่ม ดังนี้

กลุ่ม 1	เปลือก ก้อนหิน มะเขือเทศ
กลุ่ม 2	ช้อน ขนมปังกรอบ ผ้าเช็ดหน้า

5. เด็กชายคม จัดกลุ่มแบบนี้ โดยใช้หลักเกณฑ์ใด

- 1) กลุ่ม 1 เป็นสิ่งของที่มีรูปทรงกลม
- 2) กลุ่ม 2 เป็นของใช้ในบ้าน
- 3) กลุ่ม 1 เป็นวัสดุธรรมชาติ
- 4) กลุ่ม 2 เป็นของใช้ส่วนตัว

อ่านข้อความที่กำหนด แล้วตอบคำถามข้อ 6

เด็กชายคมต้องการสังเกตการเปลี่ยนแปลงเมื่อสิ่งของได้รับความร้อนในช่วงระยะเวลาหนึ่ง จึงนำสิ่งของทั้งสองกลุ่ม ไปต้มในหม้อน้ำเดือดนาน 5 นาที ภายหลังจากการต้ม เขาจัดกลุ่มใหม่ ดังนี้

กลุ่ม 1	เผือก ขนมปังกกรอบ มะเขือเทศ
กลุ่ม 2	ก้อนหิน ช้อน ผ้าเช็ดหน้า

6. เด็กชายคม จัดกลุ่มใหม่โดยใช้เหตุผลใด

- 1) กลุ่ม 1 ไม่เกิดการเปลี่ยนแปลง
- 2) กลุ่ม 2 เปลี่ยนสี
- 3) กลุ่ม 1 เปลี่ยนรูปร่าง
- 4) กลุ่ม 2 เปลี่ยนขนาด

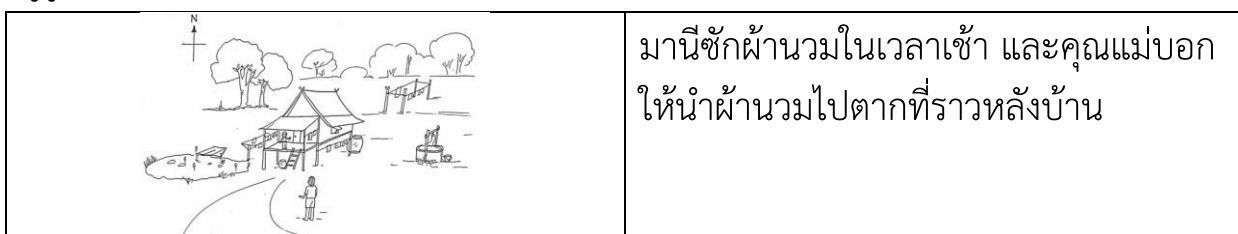
อ่านข้อความที่กำหนด แล้วตอบคำถามข้อ 7

ไม้ไผ่เป็นวัสดุราคาถูก และมีอยู่มากมายในประเทศไทย ซึ่งสามารถนำมาใช้แทนเหล็กเส้นในการเพิ่มความแข็งแรงให้กับพื้นคอนกรีตได้ แต่ไม่เหมาะในการทำโครงสร้างอาคาร

7. คุณพ่อคิดที่จะนำไม้ไผ่ มาใช้แทนเหล็กเส้นในการทำทางเดินรอบบ้าน มีความเหมาะสมหรือไม่ เพราะเหตุใด

- 1) เหมาะสม เพราะวัสดุก่อสร้างมีราคาแพง
- 2) เหมาะสม เพราะทางเดินรอบบ้านรับน้ำหนักน้อย
- 3) ไม่เหมาะสม เพราะไม้ไผ่เป็นวัสดุธรรมชาติ มีอายุการใช้สั้น
- 4) ไม่เหมาะสม เพราะทางเดินรอบบ้านเป็นส่วนหนึ่งของโครงสร้างอาคาร

ดูรูปภาพที่กำหนด แล้วตอบคำถามข้อ 8



8. ตำแหน่งที่คุณแม่ให้ตากฝ้านวมเหมาะสมหรือไม่ เพราะเหตุใด

- 1) เหมาะสม เพราะจะได้รับแสงอาทิตย์ในเวลา 12.00 น.
- 2) เหมาะสม เพราะได้รับแสงอาทิตย์ตลอดทั้งวัน
- 3) ไม่เหมาะสม เพราะได้รับแสงอาทิตย์เวลาเย็น
- 4) ไม่เหมาะสม เพราะเงาของบ้านบังแสงอาทิตย์

อ่านข้อความที่กำหนด แล้วตอบคำถามข้อ 9

	<p>ขยะเกิดจากการทิ้งสิ่งของต่าง ๆ เช่น ขวด กล่อง ถัง การกำจัดวัสดุเหล่านี้มีผลกระทบต่อสิ่งแวดล้อมทั้งสิ้น</p>
---	---

9. การจัดการขยะวิธีใด มีผลกระทบต่อสิ่งแวดล้อมน้อยที่สุด

- 1) การแยกขยะก่อนนำไปฝังกลบ
- 2) การคัดแยกขยะแล้วนำไปเผา
- 3) การทำให้ขยะมีขนาดเล็กลง
- 4) การนำขยะกลับมาใช้ใหม่

อ่านข้อความที่กำหนด แล้วตอบคำถามข้อ 10

ชาวประมงยืนอยู่บนโขดหินริมทะเล เมื่อเห็นฝูงนกบินโฉบลงบนผิวน้ำ ที่บริเวณใด ก็จะเหวี่ยงแหลงไปที่บริเวณนั้น และจะได้ปลาติดแหขึ้นมาทุกครั้ง

10. เหตุผลใดที่ชาวประมงใช้วิธีนี้ในการจับปลา

- 1) ปลา มักอาศัยอยู่บริเวณโขดหิน
- 2) นกบินต้อนฝูงปลาเข้าหาโขดหิน
- 3) นกกับคนต่างได้ประโยชน์ร่วมกัน
- 4) นกมองเห็นปลาได้ชัดกว่าชาวประมง

อ่านข้อความที่กำหนด แล้วตอบคำถามข้อ 11

พืชนำดินน้ำมันมาปั้นเป็นกวาง แต่ไม่สามารถปั้นได้ จึงนำดินน้ำมันไปวางไว้กลางแสงแดดประมาณ 5 นาที

11. การกระทำของพืชัย มีเหตุผลสำคัญตามข้อใด

- 1) การปั้นกวางต้องอาศัยแสงจากดวงอาทิตย์
- 2) แสงอาทิตย์ทำให้ดินน้ำมันเปลี่ยนสถานะ
- 3) แสงสว่างช่วยให้ดินน้ำมันปั้นเป็นกวางได้ง่ายขึ้น
- 4) ความร้อนจากดวงอาทิตย์ทำให้ดินน้ำมันอ่อนตัวลง

อ่านข้อความที่กำหนด แล้วตอบคำถามข้อ 12

ปรีyasวมทางเกงขาสั้น เสื้อแขนยาว ส่วนอาภรณ์สวมกระโปรงยาว  
สวมเสื้อแขนยาว ทั้งสองคนไปเข้าร่วมพิธีทำบุญทางศาสนา กับพ่อและแม่

12. ถ้านักเรียนจะไปร่วมพิธีทางศาสนา จะแต่งตัวแบบใคร เพราะเหตุใด

- 1) ปรียา เพราะรู้สึกคล่องตัวดี
- 2) ปรียา เพราะเป็นที่นิยมทั่วไป
- 3) อาภรณ์ เพราะสวยงามดี
- 4) อาภรณ์ เพราะสุภาพเรียบร้อย


อ่านข้อความที่กำหนด แล้วตอบคำถามข้อ 13

นิตกับต้อยอยู่บ้านใกล้กัน นิตนั่งรถสองแถวไปโรงเรียนโดยเสียค่าโดยสาร  
วันละ 10 บาท แต่ต้อยขี่จักรยานยนต์ไปโรงเรียนโดยมีน้องซ้อนท้ายไปด้วยกัน  
ต้อยเสียค่าน้ำมันรถประมาณวันละ 15 บาท ต้อยคิดว่าดีกว่าการใช้รถสองแถว


13. เหตุผลในข้อใดสนับสนุนความคิดของต้อยเหมาะสมที่สุด

- 1) รวดเร็วและสนุก
- 2) สนุกและปลอดภัย
- 3) ปลอดภัยและสะดวก
- 4) รวดเร็วและประหยัด

ดูรูปภาพที่กำหนด แล้วตอบคำถามข้อ 14



ภาพที่ 1 อดีต



ภาพที่ 2 ปัจจุบัน

14. เปรียบเทียบภาพที่ 1 กับภาพที่ 2 สิ่งใดที่เปลี่ยนแปลงน้อยที่สุด

- 1) การคมนาคม
- 2) การนับถือศาสนา
- 3) การประกอบอาชีพ
- 4) การก่อสร้างที่อยู่อาศัย


อ่านข้อความที่กำหนด แล้วตอบคำถามข้อ 15

ครูให้ปัญญาช่วยคัดแยกหนังสือต่าง ๆ จัดเข้าตู้ให้เป็นประเภทเดียวกัน ปัญญาจึงนำหนังสือแบบเรียนภาษาไทย แบบฝึกหัดคณิตศาสตร์ และหนังสืออ่านเสริมสังคมศึกษาไว้ในตู้เดียวกัน

15. เพราะเหตุใด ปัญญาจึงนำหนังสือดังกล่าวจัดเข้าตู้เดียวกัน

- 1) เป็นหนังสือเรียน
- 2) เป็นหนังสือที่ใช้บ่อย
- 3) เป็นหนังสือที่หายาก
- 4) เป็นหนังสือสำหรับเด็ก

ดูรูปภาพที่กำหนด แล้วตอบคำถามข้อ 16



16. ถ้านักเรียนจะเข้าค่ายพักแรมที่โรงเรียน 1 คืน นักเรียนจะเตรียมตัวในเรื่องใดก่อน

- 1) เตรียมของใช้ประจำตัว
- 2) เตรียมอุปกรณ์การนอน
- 3) เตรียมอุปกรณ์ทำอาหาร
- 4) เตรียมกิจกรรมที่จะนำไปแสดง

อ่านข้อความที่กำหนด แล้วตอบคำถามข้อ 17

ตารางการจัดกลุ่มวันสำคัญ

ก	วันวิสาขบูชา	วันออกพรรษา
ข	วันสงกรานต์	วันปีใหม่
ค	วันเด็ก	วันครู
ง	วันจักรี	วันปิยมหาราช

17. นักเรียนจะนำวันพีชมงคล เติมลงข้อใดในตาราง เพราะเหตุใด

- 1) ข้อ ก เพราะเป็นวันสำคัญทางศาสนา
- 2) ข้อ ข เพราะเป็นวันสำคัญทางประเพณี
- 3) ข้อ ค เพราะเป็นวันสำคัญทั่วไป
- 4) ข้อ ง เพราะเป็นวันสำคัญเกี่ยวกับพระมหากษัตริย์

อ่านข้อความที่กำหนด แล้วตอบคำถามข้อ 18

ครูมอบหมายให้นักเรียนช่วยกันวางแผนตกแต่งห้องเรียน  
เพื่อจัดงานวันปีใหม่ โดยเน้นความสวยงามและประหยัด

18. นักเรียนควรจะเสนอความคิดเห็นตามข้อใดจึงจะเหมาะสม

- 1) จะทำสีห้องใหม่ เนื่องจากห้องเรียนเก่ามาก
- 2) จะใช้เศษวัสดุมาประดิษฐ์ประดับตกแต่งห้อง
- 3) จะใช้ผลงานนักเรียนในห้องนำมาจัดนิทรรศการ
- 4) จะซื้อของประดับห้อง เช่น กระจาดหน้าชั้นเรียน โต๊ะเรียน ฯลฯ

อ่านข้อความที่กำหนด แล้วตอบคำถามข้อ 19

กานดาได้รับค่าใช้จ่ายประจำสัปดาห์จากแม่ 100 บาท กานดาจะเก็บเงิน  
ไว้ 20 บาททุกสัปดาห์ ส่วนเงินที่เหลือ แบ่งไว้สำหรับเป็นค่าอาหาร ค่าขนม  
และค่าใช้จ่ายอื่น ๆ ที่จำเป็น

19. นักเรียนคิดว่า กานดาทำเช่นนั้นเหมาะสมหรือไม่ เพราะเหตุใด

- 1) เหมาะสม เพราะจะได้มีเงินออม
- 2) เหมาะสม เพราะไว้ซื้อขนมที่ตนชอบ
- 3) ไม่เหมาะสม เพราะสัปดาห์ต่อไปแม่ก็จะให้เงินอีก
- 4) ไม่เหมาะสม เพราะเป็นเงินที่ต้องใช้ภายในสัปดาห์

ดูรูปภาพที่กำหนด แล้วตอบคำถามข้อ 20



ดนตรีสากล



ดนตรีไทย

20. นักเรียนคิดว่าควรจะทำอย่างไรจึงจะจูงใจให้เด็ก ๆ และวัยรุ่นชมดนตรีไทยมากที่สุด

- 1) จัดแสดงดนตรีไทยให้วัยรุ่นบ่อย ๆ
- 2) สอนให้เด็กทุกคนเรียนดนตรีไทย
- 3) ส่งเสริมการแสดงดนตรีไทยในโรงเรียน
- 4) จัดให้ดนตรีไทยร่วมแสดงกับดนตรีสากล



อ่านข้อความที่กำหนด แล้วตอบคำถามข้อ 21

หมู่บ้านของเล่าซู่อยู่บนดอยสูง มีน้ำตกลึก ๆ ไม่ไกลไปจากหมู่บ้าน  
ชาวบ้านต้องหาน้ำจากน้ำตกมาใช้ดื่มกิน จะต้องเดินทางลำบากและใช้เวลา

21. จากข้อความข้างต้น คนในหมู่บ้านนี้ควรแก้ปัญหาเรื่องน้ำดื่ม-น้ำใช้อย่างไร  
จึงจะเหมาะสมกับสภาพพื้นที่มากที่สุด

- 1) ขุดบ่อน้ำไว้ใช้ที่บ้าน เพราะทำได้ง่าย
- 2) ขุดบ่อน้ำบาดาล เพราะได้ใช้น้ำทั่วกัน
- 3) ทำที่เก็บน้ำฝนไว้ใช้ เพราะบางครั้งมีฝนตกหนัก
- 4) ต่อท่อให้น้ำจากน้ำตกมายังหมู่บ้าน เพราะสะดวกและไม่เสียเวลาหาน้ำ

อ่านข้อความที่กำหนด แล้วตอบคำถามข้อ 22


สมศรีทำการบ้านไม่ทัน เพราะต้องช่วยแม่ขายของจนดึก เพื่อนจึงแนะนำ ดังนี้  
เจนใจ “บอกแม่และขอหยุดช่วยแม่ขายของ”  
จงจิต “ฉันจะให้เธอลอกการบ้าน”  
จันท์ “เธอต้องทำการบ้านในเวลาว่างที่โรงเรียนให้เสร็จ”  
จวง “ไปบอกครูว่าขอลดการบ้านให้น้อยลง”

22. ถ้าสมศรีเลือกปฏิบัติตามคำแนะนำของจันท์ นักเรียนคิดว่าสมศรีทำเช่นนั้น  
เพราะเหตุใด

- 1) ไม่ต้องรบกวนเพื่อน
- 2) เพื่อนจะได้ชื่นชม
- 3) ยอมเหน็ดเหนื่อยเพื่อช่วยเหลือแม่
- 4) ไม่ทำให้แม่และตนเองต้องเดือดร้อน

อ่านข้อความที่กำหนด แล้วตอบคำถามข้อ 23

หลังเลิกเรียน เป้ ปอง และแป๋ง พบกระเป๋าเงินตกอยู่บริเวณหน้าโรงเรียนซึ่งมีเงินอยู่  
2,000 บาท ทั้ง 3 คนจึงปรึกษากัน หลังจากนั้น พวกเขาจึงตกลงกัน นำกระเป๋าเงินไป  
มอบคุณครู



23. การกระทำของนักเรียนกลุ่มนี้ถูกต้องหรือไม่ เพราะเหตุใด

- 1) ถูก เพราะต้องการได้รับคำชม
- 2) ถูก เพราะครูจะได้ตามหาและส่งคืนเจ้าของ
- 3) ไม่ถูก เพราะครูอาจเก็บเงินไว้
- 4) ไม่ถูก เพราะไม่มีทางทราบว่าใครเป็นเจ้าของ

อ่านข้อความที่กำหนด แล้วตอบคำถามข้อ 24

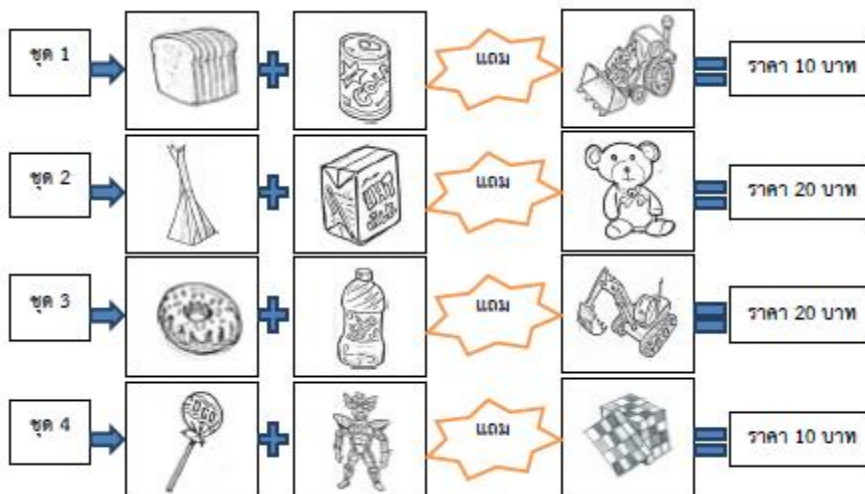
สมชายเป็นเด็กที่มีผลการเรียนปานกลาง ได้รับเลือกเป็นหัวหน้าห้อง เมื่อมีเวลาว่างชอบช่วยเหลือผู้อื่น ส่วนมานะเป็นเด็กที่เรียนเก่งมาก จะร่วมกิจกรรมของโรงเรียนก็ต่อเมื่อได้รับมอบหมาย เพื่อน ๆ จึงรักสมชายมากกว่ามานะ

24. เหตุใดเพื่อนจึงรักสมชายมากกว่ามานะ

- 1) เพราะมานะเรียนเก่งเกินไป
- 2) เพราะสมชายเป็นคนมีน้ำใจ
- 3) เพราะสมชายเป็นหัวหน้าห้อง
- 4) เพราะมานะไม่ค่อยจะเข้าร่วมกิจกรรม

ดูรูปภาพที่กำหนด แล้วตอบคำถามข้อ 25

แม่ค้าจัดของขายเป็นชุด ๆ ดังนี้



25. ถ้านักเรียนมีเงินอยู่ 20 บาท นักเรียนควรซื้อชุดใด

- 1) ชุดที่ 1 เพราะได้ของราคาถูก
- 2) ชุดที่ 2 เพราะได้ตุ๊กตหมีประโยชน์
- 3) ชุดที่ 3 เพราะได้น้ำดื่มและของเล่นเหมือนกัน
- 4) ชุดที่ 4 เพราะมีเงินเหลือพอที่จะซื้อ

อ่านข้อความที่กำหนด แล้วตอบคำถามข้อ 26

กลุ่ม 1	 พนักงานขับรถ	 ตำรวจจราจร	 พนักงานโรงแรม	 บุรุษไปรษณีย์
กลุ่ม 2	 นักออกแบบ	 พ่อครัว	 ครู	 นักเรียน

26. แดงจะจัดอาชีพพยาบาล เป็นงานประเภทเดียวกันกับกลุ่ม 1 เพราะเหตุใด

- 1) เพราะเป็นอาชีพที่ต้องเสียสละ
- 2) เพราะเป็นอาชีพที่มีรายได้แน่นอน
- 3) เพราะเป็นอาชีพบริการประชาชน
- 4) เพราะเป็นอาชีพที่ไม่เสี่ยงอันตราย

อ่านข้อความที่กำหนด แล้วตอบคำถามข้อ 27

โอ้อยากได้รองเท้าเตะฟุตบอลยี่ห้อดังคู่หนึ่ง แต่ฐานะทางบ้านยากจน โอ้จึงไปรับจ้างล้างจานที่ร้านอาหารหลังเลิกเรียนทุกวัน ทำให้กลับบ้านดึก ไม่มีเวลาทบทวนบทเรียน

27. การกระทำของโอ้เหมาะสมหรือไม่ เพราะเหตุใด

- 1) เหมาะสม เพราะเป็นการหารายได้ด้วยตัวเอง
- 2) เหมาะสม เพราะเป็นการเก็บหอมรอมริบ
- 3) ไม่เหมาะสม เพราะยังเป็นเด็ก
- 4) ไม่เหมาะสม เพราะการทำงานรับจ้างทำให้เสียเวลาเรียน



ดูรูปภาพที่กำหนด แล้วตอบคำถามข้อ 28



28. เด็กที่เล่นฟุตบอลควรทำอย่างไร เพราะเหตุใด

- 1) ตะโกนร้องเพื่อให้คนจากรถตู้ตกใจหนีไป
- 2) วิ่งไปบอกผู้ใหญ่เพื่อให้ผู้ใหญ่มาช่วยเพื่อน
- 3) วิ่งหนีไปไกล ๆ เพื่อให้ตนเองปลอดภัยไว้ก่อน
- 4) ชวนเพื่อนช่วยดึงเพื่อนไว้เพื่อสู้แรงชายแปลกหน้า

ดูรูปภาพที่กำหนด แล้วตอบคำถามข้อ 29



29. เหตุผลใดใช้อธิบายการกระทำของเด็กชายก้อง ในภาพที่ 2 ได้เหมาะสมที่สุด

- 1) เป็นของเล่นที่เสียงดัง
- 2) เป็นของเล่นที่อันตราย
- 3) เป็นของเล่นที่สิ้นเปลือง
- 4) เป็นของเล่นที่แม่สั่งห้ามเล่น

ดูรูปภาพที่กำหนด แล้วตอบคำถามข้อ 30



30. จากภาพ เหตุผลใดที่ทำให้แม่ค้าผลไม้ไม่ต้องใช้ผ้าปิดจมูกและปาก

- 1) เพื่อให้เป็นตัวอย่างให้กับผู้ชายคนอื่น ๆ
- 2) เพื่อให้ลูกค้ามั่นใจในความสะอาดของผลไม้
- 3) ป้องกันควันจากไถ่ย่างและลูกชิ้นปิ้งเข้าปอด
- 4) ป้องกันกลิ่นของไถ่ย่างและลูกชิ้นปิ้งที่อาจจะทำให้หิว