



แบบทดสอบ

ความสามารถด้านเหตุผล

ชั้นประถมศึกษาปีที่ 3

ปีการศึกษา 2555

สำนักทดสอบทางการศึกษา

สำนักงานคณะกรรมการการศึกษาขั้นพื้นฐาน

แบบทดสอบนี้เป็นเอกสารลับของทางราชการ
ไม่อนุญาตให้ขีดเขียนหรือทำเครื่องหมายใด ๆ
ลงในแบบทดสอบและห้ามคัดลอกเปิดเผยหรือนำไปเผยแพร่

สงวนลิขสิทธิ์

คำชี้แจง

แบบทดสอบความสามารถด้านเหตุผล

ชั้นประถมศึกษาปีที่ 3

แบบทดสอบฉบับนี้มี 30 ข้อ ให้เวลาทำแบบทดสอบ 50 นาที

แบบทดสอบฉบับนี้เป็นแบบปรนัย 4 ตัวเลือก จำนวน 30 ข้อ (ข้อ 1 - 30)
ข้อละ 1 คะแนน รวม 30 คะแนน แต่ละข้อมีคำตอบที่ถูกต้องที่สุดเพียงคำตอบเดียว

ตัวอย่าง 0. แดงต้องการซื้อดินสอสี เมื่อไปตลาดจึงซื้อในร้านค้าแรกที่พบ วันต่อมา
แดงพบว่ามียุโรป้าที่ขายดินสอสีที่มีคุณภาพ และราคาถูกกว่าอยู่ถัดไป
การตัดสินใจของแดงมีข้อผิดพลาด เพราะเหตุใด

- 1) ซื้อตามคนขายแนะนำ
- 2) การกลัวไม่ได้สินค้าที่ต้องการ
- 3) ขาดการสำรวจและตรวจสอบ
- 4) ความเคยชินกับการซื้อสินค้าในร้านนี้

วิธีตอบ ให้นักเรียนเลือกคำตอบที่ถูกต้องที่สุดเพียงคำตอบเดียว โดยระบาย
ทับตัวเลขที่ตรงกับตัวเลือกที่ต้องการลงในกระดาษคำตอบ ถ้านักเรียนคิดว่า
ตัวเลือกที่ 3) เป็นคำตอบที่ถูกต้องที่สุด ให้ระบายในกระดาษคำตอบ ดังนี้

0.	<input type="radio"/>	<input type="radio"/>	<input checked="" type="radio"/>	<input type="radio"/>
----	-----------------------	-----------------------	----------------------------------	-----------------------



อ่านข้อความที่กำหนด แล้วตอบคำถามข้อ 1

ผลการสำรวจร้านค้าเกี่ยวกับการใช้กระดาษชำระหรือกระดาษทิชชู

ร้านค้า	ร้านขายข้าวสาร	ร้านอาหาร	ร้านก๋วยเตี๋ยว	ร้านขายยา
ลักษณะกระดาษชำระ (ทิชชู)	ชนิดแผ่นเรียบ	ชนิดลายนูน	ชนิดลายนูน	ชนิดแผ่นเรียบ
				

1. แอ้วขายส้มตำ ควรเลือกใช้กระดาษชำระ(ทิชชู) แบบใดจึงจะเหมาะสม เพราะเหตุใด

- 1) ชนิดลายนูน เพราะมีความยืดหยุ่น น้ำหนักเบา
- 2) ชนิดลายนูน เพราะมีความยืดหยุ่น ซึมซับได้ดี
- 3) ชนิดแผ่นเรียบ เพราะมีความยืดหยุ่น ย่อยสลายได้ดี
- 4) ชนิดแผ่นเรียบ เพราะมีความยืดหยุ่น ปริมาณมากกว่า

อ่านข้อความที่กำหนด แล้วตอบคำถามข้อ 2

นักเรียนกลุ่มหนึ่ง เลือกซื้อของเล่น ดังนี้

นิต ซื้อตุ๊กตาที่ทำด้วยผ้า

แก่ง ซื้อรถเด็กเล่นที่ทำด้วยพลาสติก

ต้อม ซื้อหุ่นยนต์ที่ทำด้วยโลหะ

ปอย ซื้อปืนของเล่นที่ทำด้วยไม้

2. ถ้านักเรียนจะซื้อของเล่นให้น้องผู้หญิงที่มีอายุ 1 ขวบ ควรเลือกซื้อของเล่นเหมือนใคร เพราะเหตุใด

- 1) นิต เพราะมีความยืดหยุ่นและปลอดภัย
- 2) แก่ง เพราะมีสีสันสวยงามและสะอาดตา
- 3) ต้อม เพราะมีการผลิตด้วยเทคโนโลยีที่ทันสมัย
- 4) ปอย เพราะมีความแข็งแรงและทนทาน

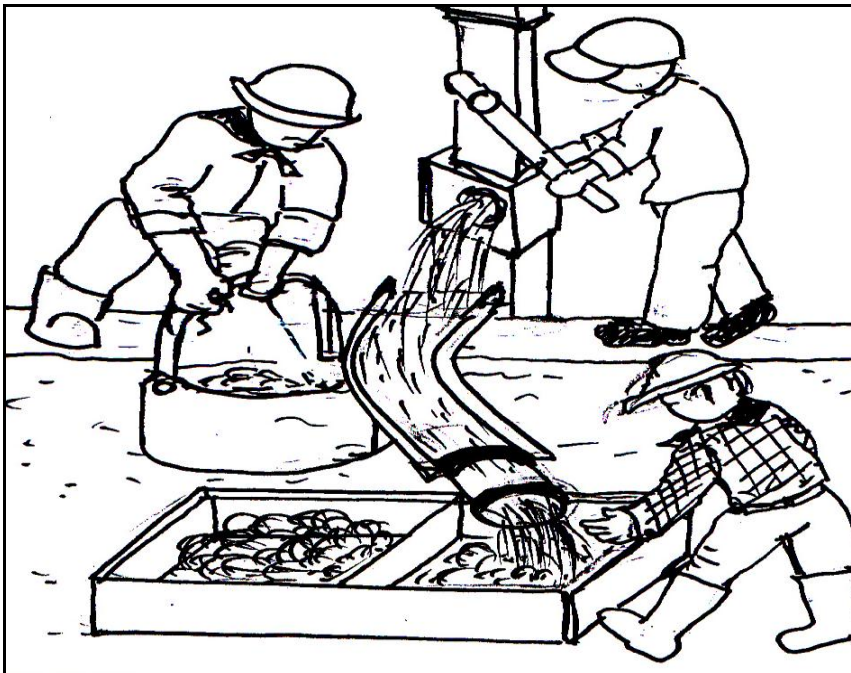


อ่านข้อความที่กำหนด แล้วตอบคำถามข้อ 3

ชุมชนที่ 1 มีอาชีพระเบิดภูเขาหินปูน เพื่อนำมาทำถนน และสร้างอาคารบ้านเรือน



ชุมชนที่ 2 มีอาชีพทำเหมืองแร่ โดยการฉีดน้ำให้ก้อนแร่ไหลตามราง




3. อาชีพของทั้งสองชุมชนส่งผลกระทบต่อสิ่งใดมากที่สุด

- 1) ป่าไม้ลดลง
- 2) สัตว์ป่าลดลง
- 3) น้ำป่าไหลหลาก
- 4) ทรัพยากรลดลงและหมดไป




อ่านข้อความที่กำหนด แล้วตอบคำถามข้อ 4

บ้านหลังหนึ่งอยู่ใกล้ฟาร์มเลี้ยงหมู คนในบ้านมักจะได้กลิ่นเหม็นและเสียงรบกวนจากหมู ส่วนบ้านอีกหลังหนึ่งอยู่ใกล้กับคอกเลี้ยงวัวนม คนในบ้านมักจะได้รับความรำคาญจากแมลงวันและควีนจากการเผาหญ้าสดเพื่อเลี้ยงให้วัว



คอกเลี้ยงหมู



คอกเลี้ยงวัวนม

4. จากข้อมูลนี้ คนในบ้านทั้ง 2 หลัง น่าจะมีปัญหาในเรื่องใดมากที่สุด

- | | |
|------------------|-----------------------|
| 1) ระบบหายใจ | 2) ระบบขับถ่าย |
| 3) ระบบย่อยอาหาร | 4) ระบบหมุนเวียนเลือด |



อ่านข้อความที่กำหนด แล้วตอบคำถามข้อ 5

เด็กชายคมจัดกลุ่มสิ่งของที่มีอยู่ได้ 2 กลุ่ม ดังนี้

กลุ่ม 1	เผือก ก้อนหิน มะเขือเทศ
กลุ่ม 2	ช้อน ขนมหั้วกรอบ ผ้าเช็ดหน้า

5. เด็กชายคมจัดกลุ่มแบบนี้ โดยใช้หลักเกณฑ์ใด

- 1) กลุ่ม 1 เป็นสิ่งของที่มีรูปร่างกลม
- 2) กลุ่ม 2 เป็นของใช้ในบ้าน
- 3) กลุ่ม 1 เป็นวัสดุธรรมชาติ
- 4) กลุ่ม 2 เป็นของใช้ส่วนตัว

อ่านข้อความที่กำหนด แล้วตอบคำถามข้อ 6

เมื่อเด็กชายคมต้องการสังเกตการเปลี่ยนแปลงเมื่อสิ่งของได้รับความร้อน ช่วงระยะเวลาหนึ่ง จึงนำสิ่งของทั้งสองกลุ่ม ไปต้มในหม้อน้ำเดือดนาน 5 นาที ภายหลังจากการต้ม เขาจัดกลุ่มใหม่ ดังนี้

กลุ่ม 1	เผือก ขนมหั้วกรอบ มะเขือเทศ
กลุ่ม 2	ก้อนหิน ช้อน ผ้าเช็ดหน้า

6. เด็กชายคมจัดกลุ่มใหม่โดยใช้เหตุผลใด

- 1) กลุ่ม 1 ไม่เกิดการเปลี่ยนแปลง
- 2) กลุ่ม 2 เปลี่ยนสี
- 3) กลุ่ม 1 เปลี่ยนรูปร่าง
- 4) กลุ่ม 2 เปลี่ยนขนาด

อ่านข้อความที่กำหนด แล้วตอบคำถามข้อ 7

ไม้ไผ่เป็นวัสดุราคาถูก และมีอยู่มากมายในประเทศไทย ซึ่งสามารถนำมาใช้แทนเหล็กเส้นในการเพิ่มความแข็งแรงให้กับพื้นคอนกรีตได้ แต่ไม่เหมาะในการทำโครงสร้างอาคาร

7. คุณพ่อคิดที่จะนำไม้ไผ่ มาใช้แทนเหล็กเส้นในการทำทางเดินรอบบ้าน

มีความเหมาะสมหรือไม่ เพราะเหตุใด

- 1) เหมาะสม เพราะวัสดุก่อสร้างมีราคาแพง
- 2) เหมาะสม เพราะทางเดินรอบบ้านรับน้ำหนักน้อย
- 3) ไม่เหมาะสม เพราะไม้ไผ่เป็นวัสดุธรรมชาติ มีอายุการใช้งานสั้น
- 4) ไม่เหมาะสม เพราะทางเดินรอบบ้านเป็นส่วนหนึ่งของโครงสร้างอาคาร



ดูรูปภาพที่กำหนด แล้วตอบคำถามข้อ 8



8. ตำแหน่งที่คุณแม่ให้ตากฝ้านวมเหมาะสมหรือไม่ เพราะเหตุใด

- 1) เหมาะสม เพราะจะได้รับแสงอาทิตย์ในเวลา 12.00 น.
- 2) เหมาะสม เพราะได้รับแสงอาทิตย์ตลอดทั้งวัน
- 3) ไม่เหมาะสม เพราะได้รับแสงอาทิตย์เวลาเย็น
- 4) ไม่เหมาะสม เพราะเงาของบ้านบังแสงอาทิตย์

อ่านข้อความที่กำหนด แล้วตอบคำถามข้อ 9



9. การจัดการขยะวิธีใด มีผลกระทบต่อสิ่งแวดล้อมน้อยที่สุด

- 1) การแยกขยะก่อนนำไปฝังกลบ
- 2) การคัดแยกขยะแล้วนำไปเผา
- 3) การทำให้ขยะมีขนาดเล็กกลง
- 4) การนำขยะกลับมาใช้ใหม่



อ่านข้อความที่กำหนด แล้วตอบคำถามข้อ 10

ชาวประมงยืนอยู่บนโขดหินริมทะเล เมื่อเห็นฝูงนกบินโฉบลงบนผิวน้ำที่บริเวณใด ก็จะเหวี่ยงแหลงไปที่บริเวณนั้น และจะได้ปลาติดแหขึ้นมาทุกครั้ง

10. เหตุผลใดที่ชาวประมงใช้วิธีนี้ในการจับปลา

- 1) ปลา มักอาศัยอยู่บริเวณโขดหิน
- 2) นกบินต้อนฝูงปลาเข้าหาโขดหิน
- 3) นกกับคนต่างได้ประโยชน์ร่วมกัน
- 4) นกมองเห็นปลาได้ชัดกว่าชาวประมง

อ่านข้อความที่กำหนด แล้วตอบคำถามข้อ 11

พืชย่นำดินน้ำมันมาปั้นเป็นกวาง แต่ไม่สามารถปั้นได้ จึงนำดินน้ำมันไปวางไว้กลางแสงแดดประมาณ 5 นาที

11. การกระทำของพืชย่นี มีเหตุผลสำคัญตามข้อใด

- 1) การปั้นกวางต้องอาศัยแสงจากดวงอาทิตย์
- 2) แสงอาทิตย์ทำให้ดินน้ำมันเปลี่ยนสถานะ
- 3) แสงสว่างช่วยให้ดินน้ำมันปั้นเป็นกวางได้ง่ายขึ้น
- 4) ความร้อนจากดวงอาทิตย์ทำให้ดินน้ำมันอ่อนตัวลง

อ่านข้อความที่กำหนด แล้วตอบคำถามข้อ 12

ปรียาสวมกางเกงขาสั้น เสื้อแขนยาว ส่วนอำภาสวมกระโปรงยาว สวมเสื้อแขนยาว ทั้งสองคนไปเข้าร่วมพิธีทำบุญทางศาสนาที่พ่อและแม่

12. ถ้านักเรียนจะไปร่วมพิธีทางศาสนา จะแต่งตัวแบบใคร เพราะเหตุใด

- 1) ปรียา เพราะรู้สึกคล่องตัวดี
- 2) ปรียา เพราะเป็นที่นิยมทั่วไป
- 3) อำภา เพราะสวยงามดี
- 4) อำภา เพราะสุภาพเรียบร้อย

อ่านข้อความที่กำหนด แล้วตอบคำถามข้อ 13

นิตกับต้อยอยู่บ้านใกล้กัน นิตนั่งรถสองแถวไปโรงเรียนโดยเสียค่าโดยสารวันละ 10 บาท แต่ต้อยขี่จักรยานยนต์ไปโรงเรียนโดยมีน้องซ้อนท้ายไปด้วยกัน ต้อยเสียค่าน้ำมันรถประมาณวันละ 15 บาท ต้อยคิดว่าดีกว่าการใช้รถสองแถว

13. เหตุผลในข้อใดสนับสนุนความคิดของต้อยเหมาะสมที่สุด


- 1) รวดเร็วและสนุก
- 2) สนุกและปลอดภัย
- 3) ปลอดภัยและสะดวก
- 4) รวดเร็วและประหยัด



ดูรูปภาพที่กำหนด แล้วตอบคำถามข้อ 14



ภาพที่ 1 อดีต



ภาพที่ 2 ปัจจุบัน

14. เปรียบเทียบภาพที่ 1 กับภาพที่ 2 สิ่งใดที่เปลี่ยนแปลงน้อยที่สุด

- | | |
|-------------------|----------------------------|
| 1) การคมนาคม | 2) การนับถือศาสนา |
| 3) การประกอบอาชีพ | 4) การก่อสร้างที่อยู่อาศัย |

อ่านข้อความที่กำหนด แล้วตอบคำถามข้อ 15


ครูให้ปัญญาช่วยคัดแยกหนังสือต่าง ๆ จัดเข้าตู้ให้เป็นประเภทเดียวกัน ปัญญาจึงนำหนังสือแบบเรียนภาษาไทย แบบฝึกหัดคณิตศาสตร์ และหนังสืออ่านเสริมสังคมศึกษาไว้ในตู้เดียวกัน

15. เพราะเหตุใด ปัญญาจึงนำหนังสือดังกล่าวจัดเข้าตู้เดียวกัน

- | | |
|------------------------|--------------------------|
| 1) เป็นหนังสือเรียน | 2) เป็นหนังสือที่ใช้บ่อย |
| 3) เป็นหนังสือที่หายาก | 4) เป็นหนังสือสำหรับเด็ก |

16. ถ้านักเรียนจะเตรียมตัวเข้าค่ายพักแรมที่โรงเรียน 1 คืน นักเรียนจะเตรียมในเรื่องใดก่อน

- 1) เตรียมของใช้ประจำตัว
- 2) เตรียมอุปกรณ์การนอน
- 3) เตรียมอุปกรณ์ทำอาหาร
- 4) เตรียมกิจกรรมที่จะนำไปแสดง





อ่านข้อความที่กำหนด แล้วตอบคำถามข้อ 17

ตารางการจัดกลุ่มวันสำคัญ

ก	วันวิสาขบูชา	วันออกพรรษา
ข	วันสงกรานต์	วันปีใหม่
ค	วันเด็ก	วันครู
ง	วันจักรี	วันปิยะมหาราช

17. นักเรียนจะนำวันพีชมงคล เติมลงข้อใดในตาราง เพราะเหตุใด

- 1) ข้อ ก เพราะเป็นวันสำคัญทางศาสนา
- 2) ข้อ ข เพราะเป็นวันสำคัญทางประเพณี
- 3) ข้อ ค เพราะเป็นวันสำคัญทั่วไป
- 4) ข้อ ง เพราะเป็นวันสำคัญเกี่ยวกับพระมหากษัตริย์

อ่านข้อความที่กำหนด แล้วตอบคำถามข้อ 18

ครูมอบหมายให้นักเรียนช่วยกันวางแผนตกแต่งห้องเรียนเพื่อจัดงานวันปีใหม่ โดยเน้นความสวยงามและประหยัด

18. นักเรียนควรจะเสนอความคิดเห็นตามข้อใดจึงจะเหมาะสม

- 1) จะทาสีห้องใหม่ เนื่องจากห้องเรียนเก่ามาก
- 2) จะใช้เศษวัสดุมาประดิษฐ์ประดับตกแต่งห้อง
- 3) จะใช้ผลงานนักเรียนในห้องนำมาจัดนิทรรศการ
- 4) จะซื้อของประดับห้อง เช่น กระดานหน้าชั้นเรียน โต๊ะเรียน ฯลฯ

อ่านข้อความที่กำหนด แล้วตอบคำถามข้อ 19

กานดาได้รับค่าใช้จ่ายประจำสัปดาห์จากแม่ 100 บาท กานดาจะเก็บเงินไว้ 20 บาท ทุกสัปดาห์ ส่วนเงินที่เหลือ แบ่งไว้สำหรับเป็นค่าอาหาร ค่าขนม และค่าใช้จ่ายอื่น ๆ ที่จำเป็น

19. นักเรียนคิดว่า กานดาทำเช่นนั้นเหมาะสมหรือไม่ เพราะเหตุใด


- 1) เหมาะสม เพราะจะได้มีเงินออม
- 2) เหมาะสม เพราะไว้ซื้อขนมที่ตนชอบ
- 3) ไม่เหมาะสม เพราะสัปดาห์ต่อไปแม่ก็จะให้เงินอีก
- 4) ไม่เหมาะสม เพราะเป็นเงินที่ต้องใช้ภายในสัปดาห์



ดูรูปภาพที่กำหนด แล้วตอบคำถามข้อ 20



ดนตรีสากล



ดนตรีไทย

20. นักเรียนคิดว่าควรจะทำอย่างไรจึงจะจูงใจให้เด็ก ๆ และวัยรุ่นชมดนตรีไทยได้มากที่สุด

- 1) จัดแสดงดนตรีไทยให้วัยรุ่นบ่อย ๆ
- 2) สอนให้เด็กทุกคนเรียนดนตรีไทย
- 3) ส่งเสริมการแสดงดนตรีไทยในโรงเรียน
- 4) จัดให้ดนตรีไทยร่วมแสดงกับดนตรีสากล

อ่านข้อความที่กำหนด แล้วตอบคำถามข้อ 21

หมู่บ้านของเล่าชวยอยู่บนดอยสูง มีน้ำตกลึก ๆ ไม่ไกลไปจากหมู่บ้าน ชาวบ้านต้อง
หาน้ำจากน้ำตกมาใช้ดื่มกิน จะต้องเดินทางลำบากและใช้เวลา

21. จากข้อความข้างต้น คนในหมู่บ้านนี้ควรแก้ปัญหาเรื่องน้ำดื่ม-น้ำใช้อย่างไร

จึงจะเหมาะสมกับสภาพพื้นที่มากที่สุด

- 1) ขุดบ่อน้ำไว้ใช้ที่บ้าน เพราะทำได้ง่าย
- 2) ขุดบ่อน้ำบาดาล เพราะได้ใช้น้ำทั่วกัน
- 3) ทำที่เก็บน้ำฝนไว้ใช้ เพราะบางครั้งมีฝนตกหนัก
- 4) ต่อท่อน้ำจากน้ำตกมายังหมู่บ้าน เพราะสะดวกและไม่เสียเวลาหาน้ำ



อ่านข้อความที่กำหนด แล้วตอบคำถามข้อ 22

สมศรีทำการบ้านไม่ทัน เพราะต้องช่วยแม่ขายของจนดึก เพื่อนจึงแนะนำ ดังนี้
เจนใจ “บอกแม่และขอหยุดช่วยแม่ขายของ”
จงจิต “ฉันจะให้เธอลอกการบ้าน”
จันท์ “เธอต้องทำการบ้านในเวลาว่างที่โรงเรียนให้เสร็จ”
จวง “ไปบอกครูว่าขอลดการบ้านให้น้อยลง”

22. ถ้าสมศรีเลือกปฏิบัติตามคำแนะนำของจันท์ นักเรียนคิดว่าสมศรีทำเช่นนั้น

เพราะเหตุใด

- 1) ไม่ต้องรบกวนเพื่อน
- 2) เพื่อนจะได้ชื่นชม
- 3) ยอมเหน็ดเหนื่อยเพื่อช่วยเหลือแม่
- 4) ไม่ทำให้แม่และตนเองต้องเดือดร้อน

อ่านข้อความที่กำหนด แล้วตอบคำถามข้อ 23

หลังเลิกเรียน เป้ ปอง และแป๋ง พบกระเป๋าเงินตกอยู่บริเวณหน้าโรงเรียน ซึ่งมีเงินอยู่ 2,000 บาท ทั้ง 3 คนจึงปรึกษากัน หลังจากนั้น พวกเขาจึงตกลงกัน นำกระเป๋าเงินไปมอบคุณครู



23. การกระทำของนักเรียนกลุ่มนี้ ถูกต้องหรือไม่ เพราะเหตุใด

- 1) ถูก เพราะต้องการได้รับคำชม
- 2) ถูก เพราะครูจะได้ตามหาและส่งคืนเจ้าของ
- 3) ไม่ถูก เพราะครูอาจเก็บเงินไว้
- 4) ไม่ถูก เพราะไม่มีทางทราบว่าใครเป็นเจ้าของ



อ่านข้อความที่กำหนด แล้วตอบคำถามข้อ 24

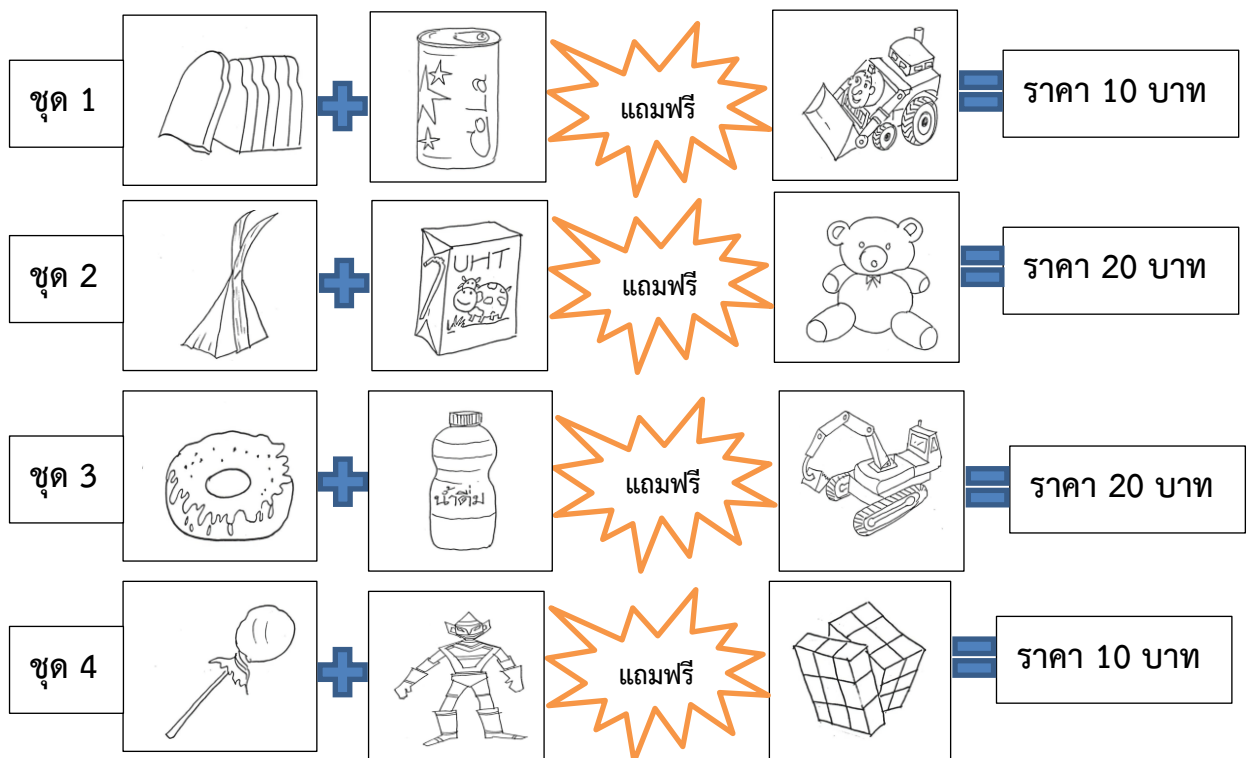
สมชายเป็นเด็กที่มีผลการเรียนปานกลาง ได้รับเลือกเป็นหัวหน้าห้อง เมื่อมีเวลาว่างชอบช่วยเหลือผู้อื่น ส่วนมานะเป็นเด็กที่เรียนเก่งมาก จะร่วมกิจกรรมของโรงเรียนก็ต่อเมื่อได้รับมอบหมาย เพื่อน ๆ จึงรักสมชายมากกว่ามานะ

24. เหตุใดเพื่อนจึงรักสมชายมากกว่ามานะ

- 1) เพราะมานะเรียนเก่งเกินไป
- 2) เพราะสมชายเป็นคนมีน้ำใจ
- 3) เพราะสมชายเป็นหัวหน้าห้อง
- 4) เพราะมานะไม่ค่อยจะเข้าร่วมกิจกรรม

ดูรูปภาพที่กำหนด แล้วตอบคำถามข้อ 25

แม่ค้าจัดของขายเป็นชุด ๆ ดังนี้



25. ถ้านักเรียนมีเงินอยู่ 20 บาท นักเรียนควรซื้อชุดใด

- 1) ชุดที่ 1 เพราะได้ของราคาถูก
- 2) ชุดที่ 2 เพราะได้ตีมนมมีประโยชน์
- 3) ชุดที่ 3 เพราะได้น้ำดื่มและของเล่นเหมือนกัน
- 4) ชุดที่ 4 เพราะมีเงินเหลือพอที่จะซื้อ



อ่านข้อความที่กำหนด แล้วตอบคำถามข้อ 26

<p>กลุ่ม 1</p>	 พนักงานขับรถโดยสาร	 ตำรวจจราจร	 พนักงานโรงแรม	 บุรุษไปรษณีย์
<p>กลุ่ม 2</p>	 นักออกแบบ	 พ่อครัว	 ครู	 นักเขียน

26. แดงจะจัดอาชีพพยาบาล เป็นงานประเภทเดียวกันกับกลุ่ม 1 เพราะเหตุใด

- 1) เพราะเป็นอาชีพที่ต้องเสียสละ
- 2) เพราะเป็นอาชีพที่มีรายได้แน่นอน
- 3) เพราะเป็นอาชีพบริการประชาชน
- 4) เพราะเป็นอาชีพที่ไม่เสี่ยงอันตราย

อ่านข้อความที่กำหนด แล้วตอบคำถามข้อ 27

โอ้เป็นนักเรียนชั้น ป.3 อยากได้รองเท้าเตะฟุตบอลยี่ห้อดังคู่หนึ่ง แต่ฐานะทางบ้านยากจน โอ้จึงไปรับจ้างล้างจานที่ร้านอาหารหลังเลิกเรียนทุกวัน ทำให้กลับบ้านดึก ไม่มีเวลาทบทวนบทเรียน

27. การกระทำของโอ้เหมาะสมหรือไม่ เพราะเหตุใด

- 1) เหมาะสม เพราะเป็นการหารายได้ด้วยตัวเอง
- 2) เหมาะสม เพราะเป็นการเก็บหอมรอมริบ
- 3) ไม่เหมาะสม เพราะยังเป็นเด็ก
- 4) ไม่เหมาะสม เพราะการทำงานรับจ้างทำให้เสียเวลาเรียน





ดูรูปภาพที่กำหนด แล้วตอบคำถามข้อ 28



28. เด็กที่เล่นฟุตบอลควรทำอย่างไร เพราะเหตุใด

- 1) ตะโกนร้องเพื่อให้คนจากรถตู้ตกใจหนีไป
- 2) วิ่งไปบอกผู้ใหญ่เพื่อให้ผู้ใหญ่มาช่วยเพื่อน
- 3) วิ่งหนีไปไกล ๆ เพื่อให้ตนเองปลอดภัยไว้อีก่อน
- 4) ชวนเพื่อนช่วยดึงเพื่อนไว้เพื่อสู้แรงชายแปลกหน้า

ดูรูปภาพที่กำหนด แล้วตอบคำถามข้อ 29




29. เหตุผลใดใช้อธิบายการกระทำของเด็กชายก๊อง ในภาพที่ 2 ได้เหมาะสมที่สุด

- 1) เป็นของเล่นที่เสียงดัง
- 2) เป็นของเล่นที่อันตราย
- 3) เป็นของเล่นที่สิ้นเปลือง
- 4) เป็นของเล่นที่แม่สั่งห้ามเล่น



ดูรูปภาพที่กำหนด แล้วตอบคำถามข้อ 30



30. จากภาพ เหตุผลใดที่ทำให้พ่อค้าผลไม้ไม่ต้องใช้ผ้าปิดจมูกและปาก

- 1) เพื่อให้เป็นตัวอย่างให้กับผู้ขายคนอื่น ๆ
- 2) เพื่อให้ลูกค้ามั่นใจในความสะอาดของผลไม้
- 3) ป้องกันควันจากไก่ย่างและลูกชิ้นปิ้งเข้าปอด
- 4) ป้องกันกลิ่นของไก่ย่างและลูกชิ้นปิ้งที่อาจจะทำให้หิว
